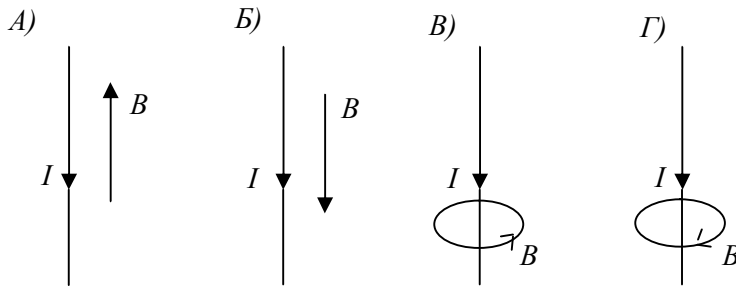



1 вариант

1. На каком рисунке правильно показано направление линий магнитной индукции магнитного поля, созданного прямым проводником с током?



2. На рисунке представлены два случая взаимодействия магнитного поля с током. Сформулировать задачу для каждого из приведенных случаев и решить ее.

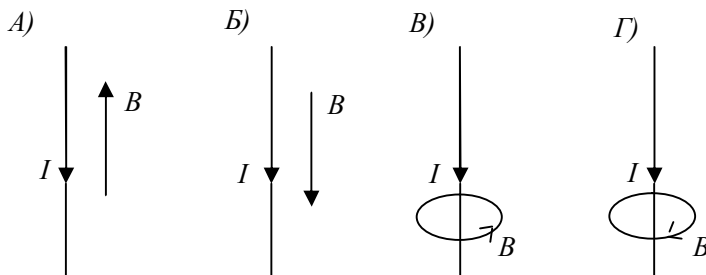


3. На рисунке представлены два случая взаимодействия магнитного поля с движущимся зарядом. Сформулировать задачу для каждого из приведенных случаев и решить ее.

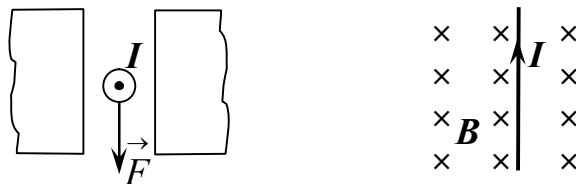


2 вариант

1. На каком рисунке правильно показано направление линий магнитной индукции магнитного поля, созданного прямым проводником с током?



2. На рисунке представлены два случая взаимодействия магнитного поля с током. Сформулировать задачу для каждого из приведенных случаев и решить ее.



3. На рисунке представлены два случая взаимодействия магнитного поля с движущимся зарядом. Сформулировать задачу для каждого из приведенных случаев и решить ее.

